

朝日新聞 時事ワークシート  
図とグラフ

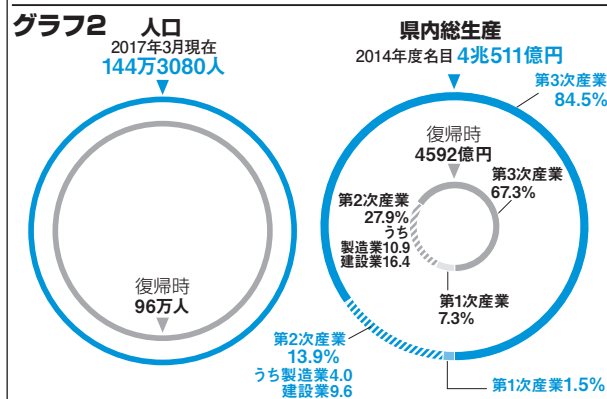
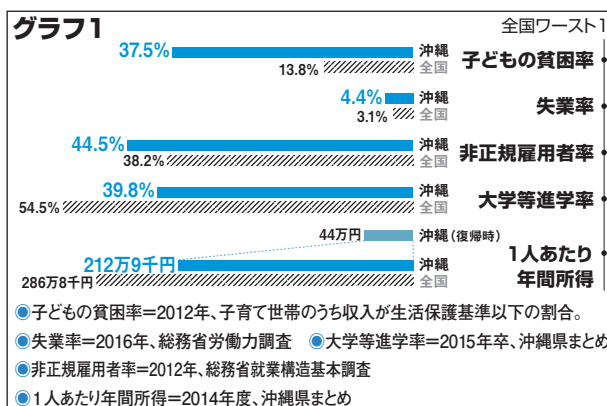
# 沖縄復帰45年 沸く観光、変わらぬ基地

※原文から一部書き直している場合があります。

2017年5月15日、沖縄が日本に復帰\*して45年を迎えた。観光の成長が著しい一方、米軍統治下のひずみや変わらぬ基地の集中が、県民の暮らしを脅かし続ける。

本土との格差是正や経済の自立を目指した沖縄振興計画では、16年までに約12兆円が投じられた。だが、米軍統治下で高度成長から取り残された製造業は伸ばせず、基幹産業を観光やITにシフトさせてきた。それでも、1人あたりの県民所得は年210万円前後で、上向きだが全国最低レベルのままである。

一方で、「子どもの貧困」で衝撃的な数字が発表された。山形大学の戸室健作准教授が、子育て世帯のうち収入が生活保護基準以下の割合を算出したところ、全国平均13.8%に対し沖縄県は37.5%でワースト。厚生労働省の基準をもとに県が推計した「相対的貧困率」（所得が中間の人の半分に満たない人の割合）も全国平均16.3%、沖縄県は29.9%であった。



言葉の解説

\*沖縄が日本に復帰…第2次世界大戦に負け、連合国に占領されていた日本は1952年、沖縄を切り離して主権を回復。沖縄はその後も米軍に支配されていたが、72年5月15日に日本に返還された。このことを「沖縄復帰」という。

問題 1 沖縄県の雇用環境について説明した次の文中の(あ)、(い)、(え)にあてはまる言葉を、グラフ1の中から書き抜きなさい。

(あ) )は4.4%と依然高く、(い) )は44.5%まで悪化。(え) )は全国平均の約7割の額だ。

問題 2 グラフ2から、沖縄県の県内総生産の内訳は、どのように変化していますか。その特徴を、背景に触れながら簡単に説明しなさい。

( )

問題 3 沖縄県では現在、どのような問題が生じていますか。「生活保護基準」という言葉を使って、簡単に説明しなさい。

( )

朝日新聞 時事ワークシート  
図とグラフ

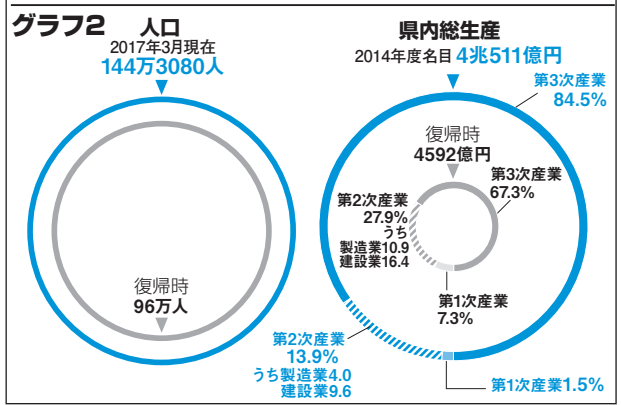
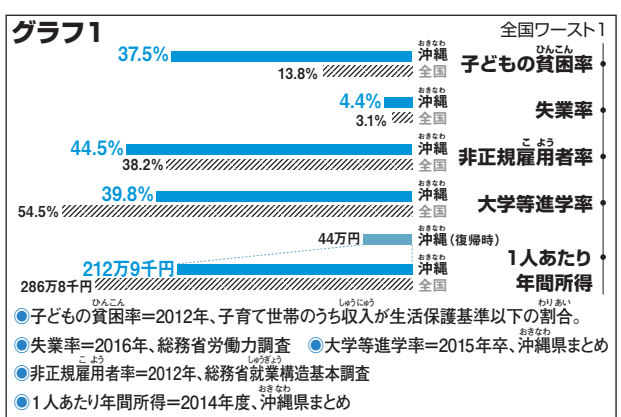
おき なわ わ  
**沖縄復帰45年 沸く観光、変わらぬ基地**

※原文から一部書き直している場合があります。

2017年5月15日、**沖縄**が日本に復帰\*して45年を迎えた。観光の成長が著しい一方、米軍統治下のひずみや変わらぬ基地の集中が、県民の暮らしを脅かし続ける。

本土との格差是正や経済の自立を目指した**沖縄振興計画**では、16年までに約12兆円が投じられた。だが、米軍統治下で高度成長から取り残された製造業は伸ばせず、基幹産業を観光やITにシフトさせてきた。それでも、1人あたりの県民所得は年210万円前後で、上向きだが全国最低レベルのままである。

一方で、「子どもの**貧困**」で衝撃的な数字が発表された。山形大学の戸室健作准教授が、子育て世帯のうち収入が生活保護基準以下の割合を算出したところ、全国平均13.8%に対し**沖縄県**は37.5%でワースト。厚生労働省の基準をもとに県が推計した「**相対的貧困率**」（所得が中間の人の半分に満たない人の割合）も全国平均16.3%、**沖縄県**は29.9%であった。



言葉の解説

\***沖縄**が日本に復帰…第2次世界大戦に負け、連合国に占領されていた日本は1952年、**沖縄**を切り離して主権を回復。**沖縄**はその後も米軍に支配されていたが、72年5月15日に日本に返還された。このことを「**沖縄復帰**」という。

問題 1 **沖縄県**の雇用環境について説明した次の文中の(あ)、(い)、(え)にあてはまる言葉を、グラフ1の中から書き抜きなさい。

(あ) )は4.4%と依然高く、(い) )は44.5%まで悪化。(え) )は全国平均の約7割の額だ。

問題 2 グラフ2から、**沖縄県**の県内総生産の内訳は、どのように変化していますか。その特徴を、背景に触れながら簡単に説明しなさい。

( )

問題 3 **沖縄県**では現在、どのような問題が生じていますか。「生活保護基準」という言葉を使って、簡単に説明しなさい。

( )